

1. Základní matematická terminologie

1.1. Číselné ~~obory~~

1.1.1 Označení číselných ~~oborů~~ ^{oborů}

$N = \{1, 2, 3, \dots, n, n+1, \dots\}$ - množina ^(obor) přirozených čísel;

↑ Základní vlastnost: Když $k \in N$, potom $k+1 \in N$;
 značka \uparrow nejít prohů Stručně: $k \in N \Rightarrow k+1 \in N$

\neq k nýrok - implikace nýroků $k \in N$,
 množina N má nekonečnou množinu čísel - tj. speciální množina $k+1 \in N$.

$Z = \{\dots, -4, -3, -2, -1, 0, 1, 2, 3, \dots\}$ - množina celých čísel;

Základní vlastnosti: a) množina stěží rozdělit libovolných dvou přirozených čísel:

$$\forall j \in N, \forall k \in N \Rightarrow j - k \in Z$$

$$b) \forall m \in Z \exists r \in N \exists s \in N : r - s = m$$

Vysvětlení kvantifikátorů!! [slovní příklad]

množina Z má nekonečnou množinu čísel - tj. speciální množina

Platí: $N \subset Z$... N je podmnožina Z

\hookrightarrow když $p \in N$ potom $p \in Z$ (obráceně ne!)

Pozor!: $p \in Z \Rightarrow p \in N$ - nepřesný nýrok!!

$\nexists Z \subset N$ - Z není podmnožina N

Q - množina racionálních čísel; nelze zadat nýrokem!

Základní vlastnosti: a) Každé racionální číslo lze vyjádřit konečným nebo periodickým (nekonečným) desetinným rozvojem:

např. $x \in Q : x = 2,3751; x = \frac{3}{25}, x = \frac{22}{7} \approx \pi (!)$

$y \in Q : y = 1,27353535\dots$

Odpověď: Jak se liší čísla 2,5 a 2,499999.....

b) Každé racionální číslo lze vyjádřit ve tvaru zlomku

Odpověď: Je číslo $\pi = 3,14$ racionální?

Odpověď: Ne! $\pi \notin Q, 3,14 \in Q$


R - množina reálných čísel

Základní vlastnosti: a) Každé reálné číslo lze vyjádřit nekonečným desítným rozvojem

např: $\frac{1}{4} = 0,25 \dots$ racionální číslo (končný des. rozvoj)
avšak také: $0,25 = 0,250000\dots$ reálné číslo (nekonečný d. rozj.)

např. $\pi \in \mathbb{R} : \pi = 3,1415926579\dots$ nekonečný des. rozvoj
b) Každé reálné číslo je limitou nějaké konvergentní posloupnosti racionálních čísel.

c) Každému bodu nějaké přímky lze přiřadit jediné reálné číslo; přímce a tímto přiřazením získáme reálnou osu resp. osu reálných čísel



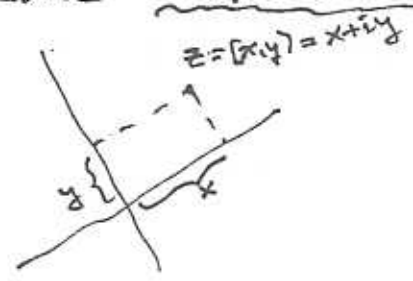
R-Q - množina iracionálních čísel : $\pi, \sqrt{2}, e$ (základ přiroz. log, ...)
Výrok $x \in \mathbb{R} - \mathbb{Q}$ znamená: $x \in \mathbb{R}$ a $x \notin \mathbb{Q}$ (yznítlý)

C - množina komplexních čísel

Základní vlastnosti: a) Uspořádaná dvojice reálných čísel:
 $z \in \mathbb{C} // z = [x, y], \text{ kde } x \in \mathbb{R}, y \in \mathbb{R}$

Zápis: $z = x + iy$; $i = [0, 1]$; $i^2 = -1$; opuštěno!!
Pozor: zápis $i = \sqrt{-1}$ je nesprávný!!

b) Každému bodu nějaké roviny lze přiřadit jediné komplexní číslo; rovině a tímto přiřazením získáme komplexní rovinu nebo Gaussovu rovinu



- reálná osa
- imaginární osa

Základní inkluze (inkluzi: $\mathbb{C} \ni$ znak podmnožiny)

$\mathbb{N} \subset \mathbb{Z} \subset \mathbb{Q} \subset \mathbb{R} \subset \mathbb{C}$

Otázka: Které číslo leží ve všech těchto množinách?
Odp: Každé přirozené číslo!

1.1.2. Operace v číselných množinách.

- N - sčítání, násobení, umocňování o přiroz. exponentu,
- Z - sčítání, odčítání, násobení, umocňování o přiroz. exponentu
- Q - sčítání, odčítání, násobení, dělení (kromě dělení nulou!!)
- R - sčítání, odčítání, násobení, dělení, umocňování o celých exponentech, odmocňování pouze nezáporných čísel
- C - všechny operace

Pozor! Porozumíme operace, správný výsledek je opět v té množině: tj. uzavřenost operace v množině

Vlastnosti operací sčítání a násobení

komutativnost	$a+b = b+a$	$a \cdot b = b \cdot a$
asociativnost	$a+(b+c) = (a+b)+c$	$a(bc) = (ab)c$
neutralita	$a+0 = a$	$a \cdot 1 = a$
distributivnost	$a(b+c) = ab+ac$	\rightarrow

- Otázky:
1. Jaké je největší reálné číslo menší než 1?
 2. Jaké je největší reálné číslo?
 3. Jaké je nejmenší reálné číslo?
 4. Jaké je největší racionální číslo?
 5. Je více racionálních čísel než čísel iracionálních?
 6. Je více racionálních čísel než čísel přirozených?

Úloha: Vymyslete "rekačbovní" záhadu: Myslíte si 3 jednonásobná přir. čísla

1. První číslo vynásobte 2	<u>Řešení:</u> $a \quad b \quad c$ $2a$ $2a+5$ $10a+25$ $10a+25+b$ $100a+10b+250$ $100a+10b+c+250$ $\underline{\hspace{2cm}}$ $desítkový\ \text{rozměr} = \text{číslo} - 250$
2. Přičtěte k výsledku 5	
3. Výsledek vynásobte 5	
4. K výsledku přičtěte druhé číslo	
5. Výsledek vynásobte 10	
6. K výsledku přičtěte třetí číslo	
7. Sdílejte mi výsledek a já vám řeknu, jaká jsou vaše čísla	

1.1.3 Shrnutí skutočných mocnín [Pohlík: . . .]

a) $a \in \mathbb{R}, m \in \mathbb{N}: a^m = \underbrace{a \cdot a \cdot \dots \cdot a}_m$

b) $\bar{a}^m = \frac{1}{a^m}, a \neq 0; \bar{a}^1 = \frac{1}{a}$

c) $a \neq 0: a^0 = 1; [a \neq 0 \text{ znamená } a \in \mathbb{R} - \{0\}]$

! Výraz 0^0 není algebraicky definovatelný;
 lze mu dát smysl (nikoliv jednoznačně)
 pouze jako limita (typ. neurčitý výraz).

$$\left. \begin{array}{l} d) a^m \cdot a^n = a^{m+n} \\ e) (a^m)^n = a^{mn} \\ f) (ab)^m = a^m b^m \\ g) \left(\frac{a}{b}\right)^m = \frac{a^m}{b^m} \\ h) \frac{a^m}{a^n} = a^{m-n} \end{array} \right\} \begin{array}{l} a, b \in \mathbb{R} \\ m, n \in \mathbb{N} \end{array}$$

i) $r = \sqrt[m]{a} = a^{\frac{1}{m}}$ platí tehdy když $a = r^m; r \dots m\text{-tá odmocnina}$
 $m \in \mathbb{N}$

Otázka: Pro jaké a bude $r \in \mathbb{R}$?

Historická poznámka:

$\sqrt{\quad}$ je stylizované písmeno r ; v latině radix,
 v angličtině root (square root) znamená
kořen

Otázka: Pro jaké a platí $\sqrt{a^2} = a$?
 $\vee - \sqrt{a^2} = -a$?

j) $a^{\frac{m}{n}} = \left(a^{\frac{1}{n}}\right)^m = \left(\sqrt[n]{a}\right)^m, m, n \in \mathbb{N}$

Otázka: Umíte definovat a použít slavné např.
 $1^\pi, 3^\pi, (\pi)^\pi; (1+2i)^{3-i}, (i)^i, ?$

1.1.4. Uspořádaná a nerovnosti.

Pro každá dvě čísla $x, y \in \mathbb{R}$ platí právě jeden ze vztahů

$$x < y, \quad x = y, \quad x > y \quad (\text{umíme to rozhodnout!})$$

Přikladme, že množina reálných čísel je uspořádaná;

Pro komplexní čísla to neplatí, tj. nemůžeme rozhodnout které ze dvou komplexních čísel (s nenulovou imaginární částí) je větší; umíme rozhodnout pouze o rovnosti:

$$x + iy = a + ib \iff x = a, y = b.$$

právě tehdy, když

Důležité vlastnosti (ilustrujte na příkladech):

- a) $\forall x, y, z \in \mathbb{R} : x < y \wedge y < z \rightarrow x < z$, logická symboly "někdy"
- b) $\forall x, y, z \in \mathbb{R} : x < y \iff x + z < y + z$,
- c) $\forall x, y \in \mathbb{R} ; x > 0, y > 0 \implies xy > 0$ [občasná implikace] [neplatí!!]

Odpověď: Co znamená zdání $a \leq b$?

Co se myslí: $3 < 4, 3 \leq 4, 4 \leq 4, 4 < 4$; ?

Odpověď: Jaký je rozdíl mezi nerovností a rovností ?

Odpověď: Jaký je rozdíl mezi rovností a rovností ?

Př: Stouvně $x \in \mathbb{R}$ takové, aby platilo: $3 + x < 7$

Př: Pronebí, zda platí $2^{3,14} < 1,9^{\pi}$?

1.2. Podmnožiny $\mathbb{R} (\cong \mathbb{R}^1), \mathbb{R}^2, \mathbb{R}^3, \mathbb{C}$

1.2.1) Souřadnicové systémy

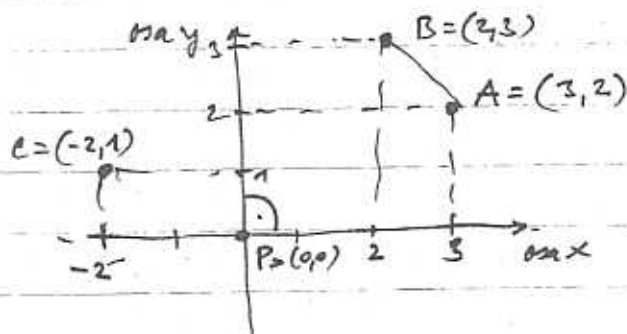
množinu všech reálných čísel = obor reálných čísel
opíšeme také: \mathbb{R}^1 , resp. $(-\infty, +\infty)$.

\mathbb{R}^2 - množina všech uspořádaných dvojic reálných čísel:

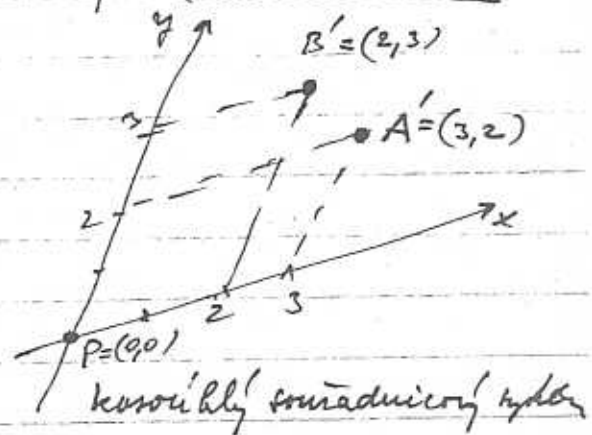
$$\cong \{(x, y) : x \in \mathbb{R}^1, y \in \mathbb{R}^1\};$$

Geometrická interpretace: Dvojici (x, y) nazýváme bodem
v rovině \mathbb{R}^2 ; čísla x, y nazýváme souřadnicemi tohoto
bodu;

Volíme v \mathbb{R}^2 dvě nezávislé přímky - souřadnicové osy



normální kartézský souřadnicový
systém



krivý souřadnicový systém

P - počátek souřadnicového systému;

v \mathbb{R}^2 můžeme zavést nekonečně mnoho souřadnicových systémů.
Poloha bodu je určena nejen dvojicí čísel (x, y) , ale také
zvolením souřadnicového systému.

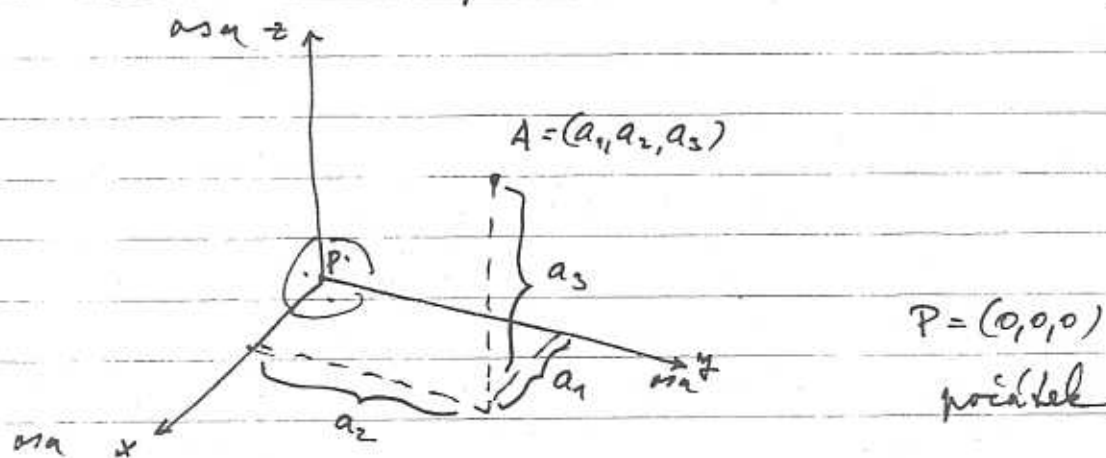
Vzdálenost $d(A, B)$ bodů A, B je nejmenší číslo,
které lze získat na zvoleném souřadnicovém systému

V kartézském souřadnicovém systému je to číslo určeno vztahem

$$d(A, B) = \sqrt{(b_1 - a_1)^2 + (b_2 - a_2)^2}; \quad A = (a_1, a_2), B = (b_1, b_2)$$

\mathbb{R}^3 - množina všech uspořádaných trojic reálných čísel
 $\equiv \{(x, y, z) : x \in \mathbb{R}^1, y \in \mathbb{R}^1, z \in \mathbb{R}^1\}$

Trojici $(x, y, z) \equiv A$ nazýváme bodem v trojrozměrném prostoru
 Osy x, y, z jsou souřadnice tohoto bodu ve zvoleném
 souřadnicovém systému: tři souřadnicové osy



Kartézský (mnohohledý)
 souřadnicový systém

1.2.2] Intervaly - speciální podmnožiny \mathbb{R} .

$\langle a, b \rangle = \{x \in \mathbb{R} : a \leq x \leq b\}$, - uzavřený interval
 $(a, b) = \{x \in \mathbb{R} : a < x < b\}$, - otevřený interval
 $[a, b) = \{x \in \mathbb{R} : a \leq x < b\}$, - polouzavřený interval
 (otevřený)

$\langle a, b \rangle = \{x \in \mathbb{R} : a \leq x < b\}$ — —

$\langle a, +\infty \rangle = \{x \in \mathbb{R} : a \leq x\}$

$(a, +\infty) = \{x \in \mathbb{R} : a < x\}$

$(-\infty, b) = \{x \in \mathbb{R} : x < b\}$

$(-\infty, b] = \{x \in \mathbb{R} : x \leq b\}$

Př: měk a rozdíl na reálné ose:

$\langle -1, 2 \rangle \cup (0, 5) = \langle -1, 5 \rangle$; sjednocení

$\langle -1, 2 \rangle \cap (0, 5) = (0, 2)$; přínit

$\langle -1, 2 \rangle - (0, 5) = \langle -1, 0 \rangle$; rozdíl

Důsledek 1: $|x|$ je vždy nezáporné číslo, tj. $|x| \geq 0$

Důsledek 2: $\forall x > 0$ je $|x| = x$;

$\forall x < 0$ je $|x| = -x$;

$\forall x = 0$ je $|x| = 0$;

Důsledek 3: množina $B \subset \mathbb{R}$ je omezená, právě tehdy když

$$\exists c > 0 \quad \forall x \in B \quad |x| \leq c$$

Důsledek 4: $\forall a, b \in \mathbb{R} : |a+b| \leq |a| + |b|$, trojúhelníková nerovnost

Důsledek 5: $\forall a, b \in \mathbb{R} : ||a|-|b|| \leq |a-b| \leq |a| + |b|$

Důsledek 6: $\forall a \in \mathbb{R} : |a|^2 = a^2$;

$$\sqrt{a^2} = |a|$$

$$|ab| = |a||b| ; \quad \left| \frac{a}{b} \right| = \frac{|a|}{|b|} , b \neq 0$$

1.2.4. | Věty, logické symboly

Věta -

negace věty

slabší věty - logické symboly : $\vee, \wedge, \Rightarrow, \Leftrightarrow, \neg$

kvantifikátory ;

negace kvantifikovaných věty

1.2.5 | Množiny a množinové operace

Sjednocení : $A \cup B = \{x : x \in A \vee x \in B\}$

Průnik : $A \cap B = \{x : x \in A \wedge x \in B\}$

Rozdíl : $A - B = \{x : x \in A \wedge x \notin B\}$

Negace : $\neg A = \{x : x \notin A\}$; $x \in A \Leftrightarrow x \notin \neg A$

Geometrické zobrazení

~~1.2.6.~~